

# ステージ

<訂正版>

文教大学附属小学校

算数だより

6月号



算数科 佐久間 裕也

5月は5年生が北アルプス、3.4年生が八ヶ岳自然教室に行き、各学年が中心となって活躍する機会が増えてきましたね。活気に満ちているように感じました。みなさんはまもなく運動会を迎えます。それぞれの種目でみなさんが活躍できるいい機会ですね。しかし梅雨に入りなんとなく外に出る時間も少なくなってくるかもしれません。そんな時こそ教室やお家で自分の勉強の復習を試みるのも良いかもしれませんね。



## ～運動会の中にある数字～

さて、まもなく本番を迎える運動会ですがこの運動会にも数字がたくさんあります。今回のステージでは今月の運動会に関する数字をプログラム、トラックの長さから見ていきたいと思います。

- ・今年度の運動会には **19** のプログラムがあります。
- ・校庭のトラックの長さは、内側から

①57.4m ②63.6m ③69.8m ④76m ⑤82.2m



です。



**①と⑤で 24.8mの差が！！**

- ・団体競技は勝ち20点、負け5点、引き分け10点
- ・徒競走は1位5点 2位4点 3位3点 4位2点

例えば、、、団体競技で

### A チーム

2回勝ち  
1回負け  
1引き分け


合計 **55** 点

### B チーム

1回勝ち  
2回負け  
1引き分け

合計 **40** 点

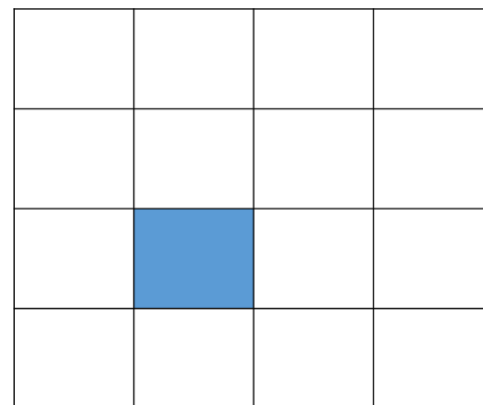
AチームとBチームで **15** 点の差があります。これを大きいと感じるか、小さいと感じるかはみなさん次第です。。。



# 算数おもしろ問題

先月号でもありましたがステージの毎号で、ちょっと頭を使う算数の問題を出していきます。みなさん全部の問題をぜひ考えてください！もしもできて答えが知りたい人は先生に聞いてくださいね！今回は2問、問題を出します。

①



四角形の花だんがあります。(中には、四角形の池があります。)

この花だんを同じ形になるように、**5**つのクラスに分けます。さて、どのように分ければよいでしょうか。




② A、B、C、D、4つの数字があります。

すべての数を足すと **90** になります。

Aに**2**を足した数とBに**2**を引いた数とCに**2**をかけた数とDを**2**でわった、ある数は等しくなります。

A、B、C、Dはそれぞれいくつでしょうか。

A B C D



A、B、C、Dに計算して同じになるある数を□として考えてみよう。高学年がんばってやってみよう！！

前回の問題の答え

